

かげの動きと太陽②

年

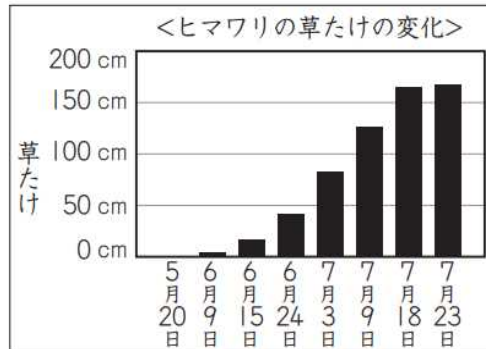
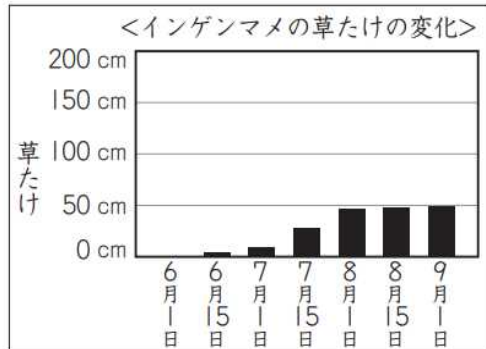
組

名前

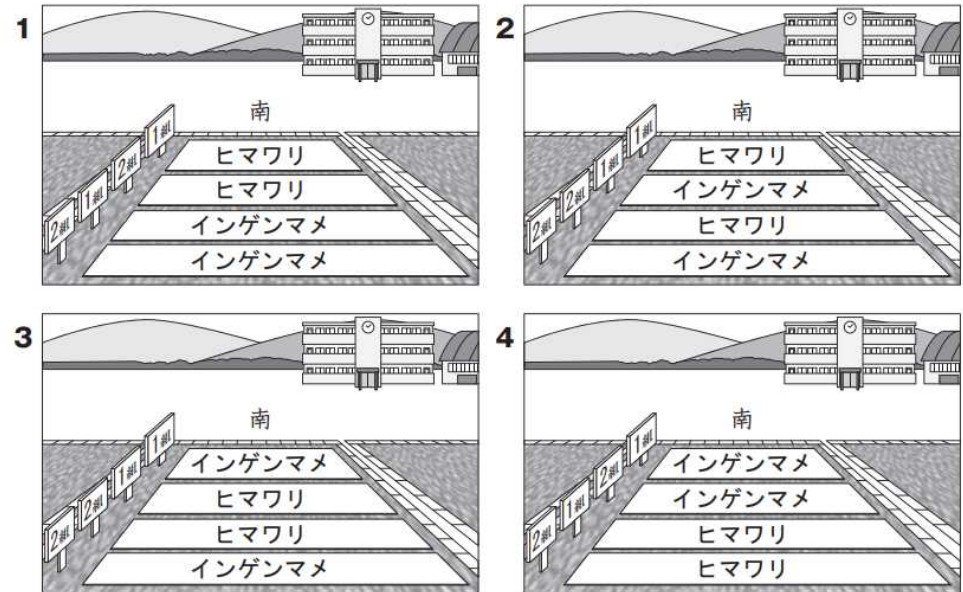
H27 2 (5)

(5) よし子さんたちの学年では、1組と2組が同時にインゲンマメ（つるなし）とヒマワリの種子を学校の畑にまくことにしました。

下の観察記録は、よしさんが過去にインゲンマメとヒマワリをそれぞれ育てたときの草たけの変化を記録したものです。



これらの観察記録から、インゲンマメとヒマワリの種子を学校の畑のどの場所にまくと、成長するまでインゲンマメとヒマワリの両方に日光がよくあたると考えられますか。下の 1 から 4 までの中から1つ選んで、その番号を書きましょう。また、その番号を選んだわけを書きましょう。



番号

わけ