

霧や雲の発生3 解答	年	組	名前
---------------	---	---	----

H27 2 (4)

資料2 (飛行機内の菓子袋のふくらみに関すること)

- 「飛行機内の菓子袋のふくらみ」が、「飛行機の状況」によって変わる(図5)。
- 飛行機内の気圧は、「地上」よりも「上空」の方が低くなる。




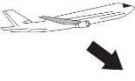




	離陸前 (地上)	上昇中 (上空)	水平飛行中 (上空)	下降中 (上空)
飛行機の 状況				
飛行機内の 菓子袋の ふくらみ				

図5

若菜さんたちは、資料2を見て、「飛行機内の菓子袋のふくらみ」の変化に驚きました。そこで、「飛行機の状況」によって菓子袋のふくらみが変わることを調べる実験を計画しました。

計画した実験

【方法】

- ① 「小さな菓子袋」を、「ピン(圧力に耐えられるもの)」の中に入れ、「空気を抜く装置」を「ピン」の口に取りつける(図6)。
- ② 「ピン」の中の空気を少しずつ抜いていく。
- ③ 空気を抜く操作をやめる。

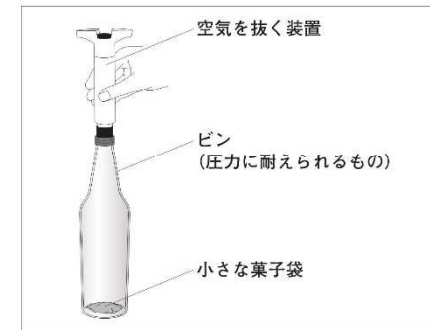


図6

(4) 【方法】②の下線部は、図5のどの「飛行機の状況」を見立てたものですか。見立てたものとして最も適切なものを、下のアからエまでのの中から1つ選びなさい。

- ア 離陸前(地上)
- イ 上昇中(上空)
- ウ 水平飛行中(上空)
- エ 下降中(上空)

イ