


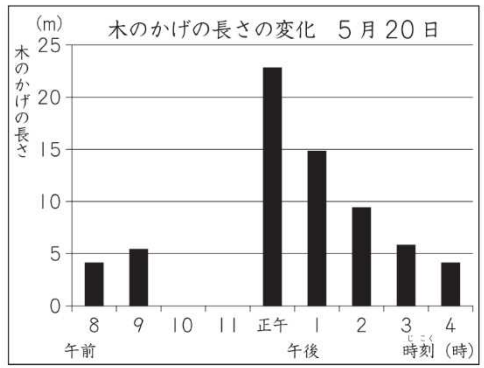
かげと太陽の動き④	年	組	名前
-----------	---	---	----

R24 **4** (3)

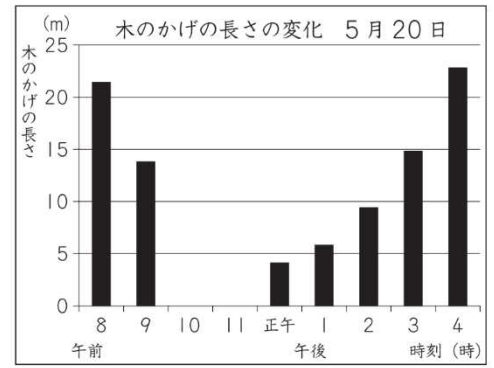
4 さぶろう 三郎さんは、5月20日の1日の太陽の位置と木のかげの動きや長さを調べました。下の3枚の図はその時のようすです。



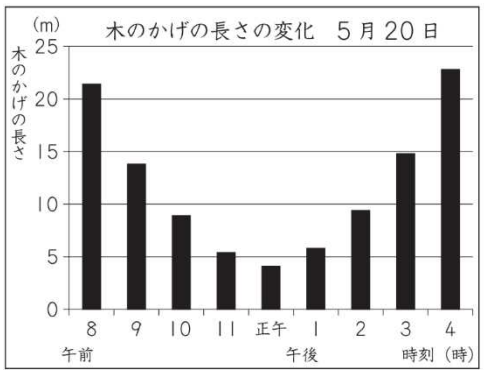
1



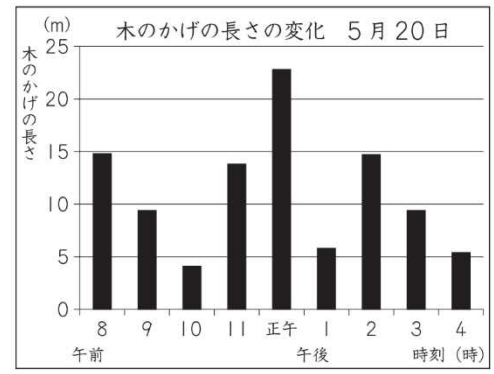
2



3



4



(3) 三郎さんは、右のように観察記録をまとめました。

この日の木のかげの長さの変化をまとめたグラフはどれですか。右の **1** から **4** までの中から1つ選んで、その番号を書きましょう。

かげの観察記録 5月20日

午前10時から正午前までは、
木のかげがありませんでした。

