


かげと太陽の動き④ 解答	年	組	名前
-----------------	---	---	----

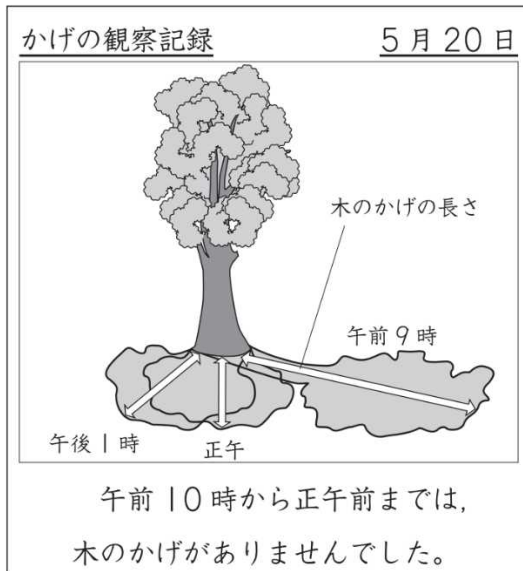
R24 **4** (3)

4 さぶろう 三郎さんは、5月20日の1日の太陽の位置と木のかげの動きや長さを調べました。下の3枚の図はその時のようすです。

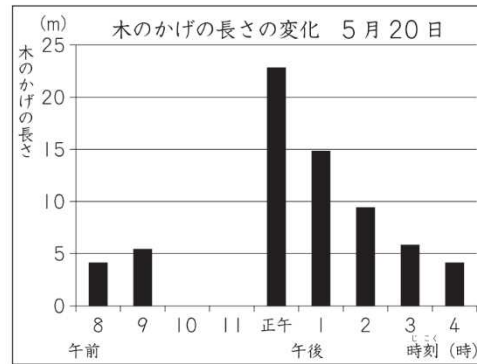


(3) 三郎さんは、右のように観察記録をまとめました。

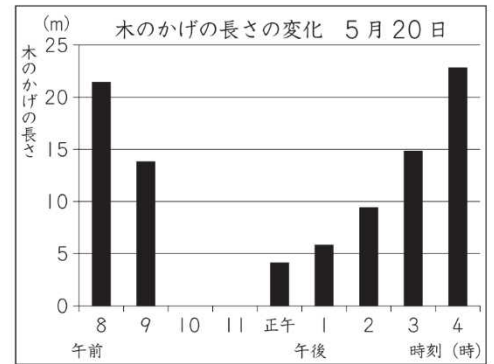
この日の木のかげの長さの変化をまとめたグラフはどれですか。右の **1** から **4** までの中から1つ選んで、その番号を書きましょう。



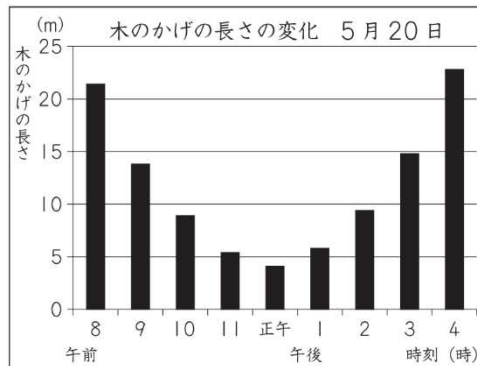
1



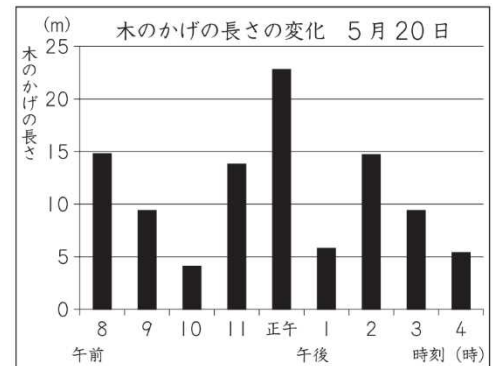
2



3



4



2