

虫眼鏡の使い方 解答	年	組	名前
---------------	---	---	----


H24 2 (1)

2 はなこ花子さんは、サクラのようすについて、ちがうちがう地域に住むたろう太郎さんと、インターネットを使って情報交かんすることにしました。

(1) 花子さんは、虫めがねでサクラの花を観察しています。

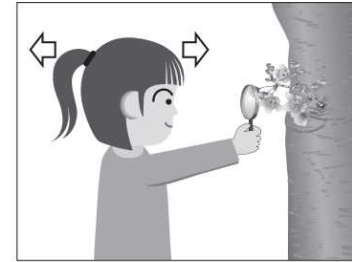
動かせないものを、正しく観察しているのはどれですか。下の 1 から 4 までの中から 1 つ選んで、その番号を書きましょう。

1




虫めがねを上下に動かす。

2




虫めがねを観察するものにつけ、頭を前後に動かす。

3



虫めがねを上下に、頭を前後に、同時に動かす。

4



虫めがねを前後に動かす。

4