

虫眼鏡の使い方	年	組	名前
---------	---	---	----

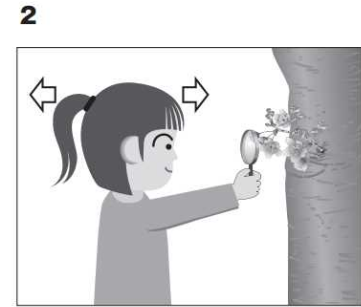
H24 2 (1)

2 はなこ花子さんは、サクラのようすについて、ちがうちがう地域に住むたろう太郎さんと、インターネットを使って情報交かんすることにしました。


- (1) 花子さんは、虫めがねでサクラの花を観察しています。  
 動かせないものを、正しく観察しているのはどれですか。下の 1 から 4 までの中から 1 つ選んで、その番号を書きましょう。




虫めがねを上下に動かす。



虫めがねを観察するものにつけ、頭を前後に動かす。



虫めがねを上下に、頭を前後に、同時に動かす。



虫めがねを前後に動かす。