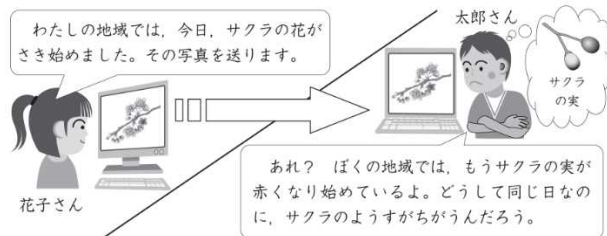


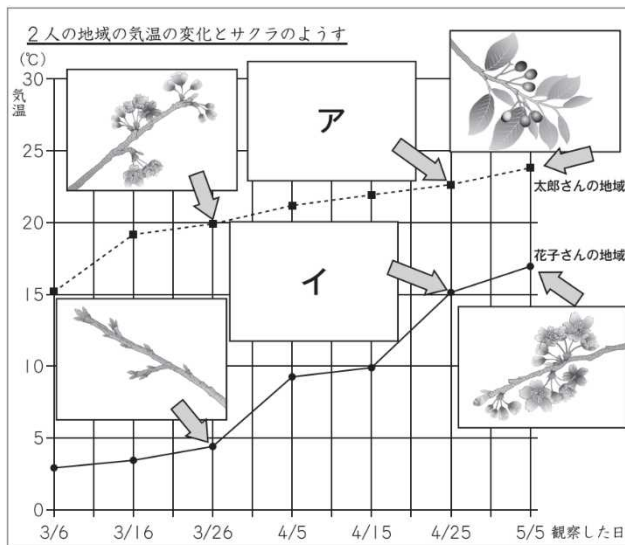
季節と生物①	年	組	名前
--------	---	---	----

H24 2 (2) (3)


(2) 花子さんは、サクラのようすを写真にとり、太郎さんに送りました。



2人は、サクラのようすのちがいは気温に関係があると考え、これまでの観察記録をもとに、下の図のようにまとめた。



2人がまとめた図の中の「ア」・「イ」に当てはまるサクラのようすの写真を、下の 1 から 4 までの中からそれぞれ一つ選んで、その番号を書きましょう。



(3) 下の図は、同じ時期にサクラの花がさき始めた地域ごとに、線で区切ったものです。

太郎さんと花子さんは、それぞれどの地域に住んでいますか。(2)の図から考え、下の図の 1 から 4 までの中からそれぞれ一つ選んで、その番号を書きましょう。



太郎さん

花子さん