

令和2年度B日程
学力検査問題

⑤

社 会

注 意

- 1 開始の合図があるまで問題用紙を開いてはいけません。
- 2 解答用紙は問題用紙の中に挟んであります。
- 3 問題用紙は表紙を除いて7ページで、問題は□1□から□3□まであります。
- 4 開始の合図があったら、まず、問題用紙および解答用紙の所定の欄に
受検番号を書きなさい。
- 5 答えはすべて**解答用紙の指定された欄**に書きなさい。

受 検 番 号

- 1 次の略年表を見て、下の1～7の問いに答えなさい。

略年表

| 西 暦 | で き ご と |
|-------|-----------------------------|
| 672年 | 壬申の乱が起こる……………A |
| 794年 | ① <u>平安京</u> に都が移る…………… |
| 1582年 | ② <u>太閤検地</u> が始まる |
| 1774年 | ③『 <u>解体新書</u> 』が出版される |
| 1941年 | ④ <u>太平洋戦争</u> が始まる |
| 1946年 | ⑤ <u>日本国憲法</u> が公布される……………B |
| 1973年 | 石油危機が起こる…………… |

- 1 年表中のAの時期に我が国で起こったできごととして正しいものを、次のア～エから一つ選び、その記号を書け。

ア 十七条の憲法が制定される イ 大宝律令が制定される
ウ 平将門の乱が起こる エ 大化の改新が始まる

- 2 年表中の下線部①の「平安京」に都が移ってからの約400年間を平安時代というが、平安時代の仏教について述べた文として正しいものを、次のア～エから一つ選び、その記号を書け。

ア 一向宗の信者たちが団結して一揆を起し、守護大名らを倒した。
イ 一遍が、各地で踊^{おど}念仏を行って、時宗を広めた。
ウ 聖武天皇が、仏教によって国を守るために、地方に国分寺をつくらせた。
エ 最澄は延暦寺を建てて天台宗を、空海は金剛峯寺を建てて真言宗を広めた。

- 3 年表中の下線部②に「太閤検地」とあるが、太閤検地が始まった16世紀後半の我が国の文化について述べた文として正しいものを、次のア～エから一つ選び、その記号を書け。

ア 戦国大名や都市の豪商たちの気風を反映した雄大で豪華な文化が生まれた。
イ 唐の制度や文化が日本に伝えられ、国際色豊かな文化が栄えた。
ウ 欧米の文化や生活様式が取り入れられ、文明開化の風潮が広がった。
エ 文化・文政期を中心に、江戸の庶民を中心とした文化が栄えた。

- 4 右の資料Ⅰは、年表中の下線部③の『解体新書』が出版された18世紀後半頃から我が国の各地に増えた、町人や百姓の子どもたちに「読み・書き・そろばん」を教える教育機関のようすを描いたものである。この教育機関を何というか、書け。

資料Ⅰ

著作権保護のため掲載していません。

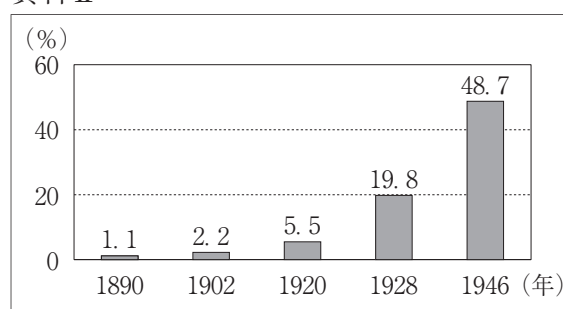
- 5 年表中の下線部④に「太平洋戦争」とあるが、次の文は、太平洋戦争が始まる前のようすについて述べたものである。文中の a ～ c に当てはまる国の組み合わせとして正しいものを、下のア～エから一つ選び、その記号を書け。

1937年から始まった a との戦争が長期化していた日本は、資源を得ることなどを目的に東南アジアへの進出を開始した。1941年に日本は b と条約を結び、北方の安全を確保したうえでさらに南進を続けた。この動きに対し、東南アジアに植民地を持つ c ・イギリス・オランダは、日本の動きに警戒を強めた。

- ア a - 中国 b - アメリカ c - ソ連 イ a - 中国 b - ソ連 c - アメリカ
ウ a - ソ連 b - アメリカ c - 中国 エ a - ソ連 b - 中国 c - アメリカ

- 6 年表中の下線部⑤の「日本国憲法」が公布された年に、衆議院議員選挙が行われた。右の資料Ⅱは、我が国の衆議院議員選挙について、全人口に占める有権者の割合の推移を示したものである。この資料から、1928年の選挙に比べて1946年の選挙では、全人口に占める有権者の割合が大幅に増加していることがわかる。この理由を、1928年と1946年の有権者の資格をそれぞれ書き、説明せよ。

資料Ⅱ



(総務省の資料による)

- 7 次のア～エの新聞記事は、年表中のBの時期に発行されたものである。ア～エの新聞記事に書かれたできごとを、年代の古いものから順に並べ、その記号を書け。

ア 著作権保護のため掲載していません。

イ 著作権保護のため掲載していません。

ウ 著作権保護のため掲載していません。

エ 著作権保護のため掲載していません。

2 次の1～4の問いに答えなさい。

1 右の資料Ⅰは、裁判員制度の成果と課題についてまとめた報告書を、最高裁判所が公表したことを伝える2019年5月16日の新聞である。2009年に導入された裁判員制度の対象となる裁判を、次のア～エから一つ選び、その記号を書け。

- ア 民事裁判 イ 刑事裁判
ウ 弾劾裁判 エ 行政裁判（行政訴訟）

資料Ⅰ

著作権保護のため掲載していません。

2 立法と行政の関係において、アメリカは大統領制を採用しているのに対して、我が国では議院内閣制を採用している。我が国の議院内閣制とはどのようなしくみか、「責任」の語を使って、簡潔に書け。

3 次の資料Ⅱは、ななみさんが我が国の環境問題への取り組みをまとめた年表である。このことについて、下の(1)～(3)の問いに答えよ。

資料Ⅱ

| 年 | で き ご と |
|-------|------------------------------------|
| 1967年 | <u>公害対策基本法</u> の制定 |
| 1971年 | 環境庁の設置 |
| 1993年 | <input type="text" value="X"/> の制定 |
| 1997年 | 京都議定書の採択 |
| 2000年 | 循環型社会形成推進基本法の制定 |
| 2001年 | 環境省の設置 |

(1) 資料Ⅱ中の下線部に「公害対策基本法」とあるが、この法律は四大公害訴訟に代表される公害問題に対する世論を受けて制定されたものである。次の資料Ⅲは、ななみさんが四大公害病のいずれかの裁判についてまとめたノートの一部である。この公害病の名称を書け。

資料Ⅲ

1960年頃から、三重県内で発生した公害は、石油化学工場から空気中に出された煙が原因であると、患者9名が原告として裁判を起こした。被告は、原告が住む地域に隣接している石油化学コンビナートの企業6社であった。1972年7月に原告が全面勝訴した。

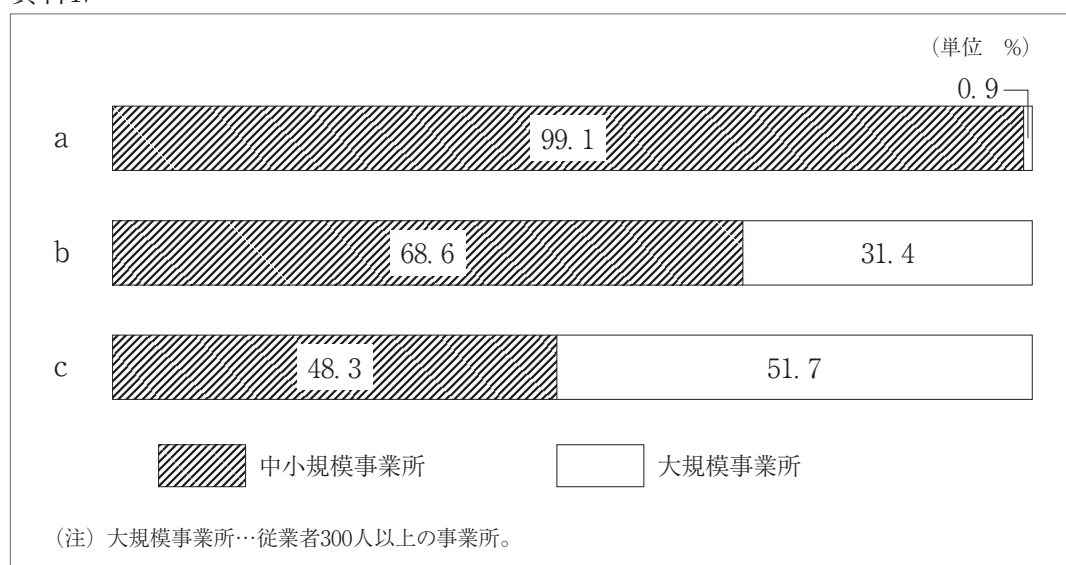
(2) 資料Ⅱ中の には、環境の保全についての基本理念や政策の方向性などを定めた法律が入る。 に当てはまる法律の名称を書け。

- (3) 現代の社会では、環境の保全などで積極的に社会貢献を行う企業も増えている。企業は利潤を追求するだけでなく、社会的責任を果たすことが期待されている。企業の社会的責任として誤っているものを、次のア～エから一つ選び、その記号を書け。

- ア 従業員が働きやすい条件を整え、雇用を確保すること。
 イ 消費者に安全でよりよい商品やサービスを提供すること。
 ウ 顧客の個人情報をすべて公開すること。
 エ 教育や地域文化に貢献すること。

- 4 次の資料Ⅳ中の a～c はそれぞれ、2016年の我が国の製造業における製造品出荷額等，事業所数，従業者数のいずれかについて，中小規模事業所と大規模事業所の割合を表したものである。資料中の a～c に当てはまるものの組み合わせとして正しいものを，下のア～エから一つ選び，その記号を書け。

資料Ⅳ



(日本国勢図会2019/20年版による)

- | | | | |
|---|----------|-------------|-------------|
| ア | a - 従業者数 | b - 製造品出荷額等 | c - 事業所数 |
| イ | a - 従業者数 | b - 事業所数 | c - 製造品出荷額等 |
| ウ | a - 事業所数 | b - 製造品出荷額等 | c - 従業者数 |
| エ | a - 事業所数 | b - 従業者数 | c - 製造品出荷額等 |

3 次の1～5の問いに答えなさい。

1 次の略地図を見て、下の(1)・(2)の問いに答えよ。

略地図



(1) 次の資料Ⅰ中の a～c はそれぞれ、地図中の ● で示した あ～う のいずれかの国の自然や文化と結びついた伝統的な衣服である。資料中の a～c と地図中の ● で示した あ～う の国の組み合わせとして正しいものを、下の ア～エ から一つ選び、その記号を書け。

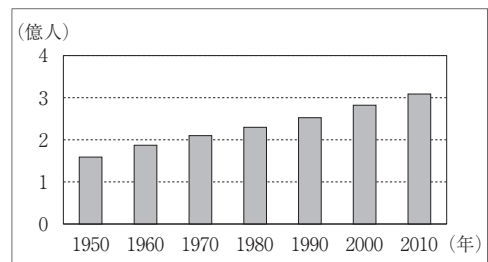
資料Ⅰ

| | | |
|--|---|---|
| <p>a</p> <div style="border: 1px solid black; padding: 10px; text-align: center;"> <p>著作権保護のため掲載していません。</p> </div> <p>サリーとよばれ、女性が着用する。長い1枚の布を身体に巻きつける。</p> | <p>b</p> <div style="border: 1px solid black; padding: 10px; text-align: center;"> <p>著作権保護のため掲載していません。</p> </div> <p>長袖と長い裾で強い日ざしや砂あらしから身体を守る。</p> | <p>c</p> <div style="border: 1px solid black; padding: 10px; text-align: center;"> <p>著作権保護のため掲載していません。</p> </div> <p>ボンチョという中央に穴を開けた毛織物の上着を頭からかぶる。</p> |
|--|---|---|

ア a - あ b - い c - う イ a - い b - あ c - う
 ウ a - い b - う c - あ エ a - う b - あ c - い

(2) 右の資料Ⅱは、地図中の ● で示したアメリカ合衆国の、1950年から2010年における人口の推移を10年ごとに表したものである。資料からアメリカ合衆国の人口増加が進んでいることがわかるが、人口増加の背景には、ヒスパニックと呼ばれる人々の流入がある。英語を除き、ヒスパニックが主に話す言語は何か、書け。

資料Ⅱ



(世界の統計2019年版による)

- 2 次の資料Ⅲは、2016年におけるアメリカ合衆国、インド、中国、日本、ロシアの二酸化炭素総排出量と一人あたりの二酸化炭素排出量を表したものである。資料中のA～Dはそれぞれ、アメリカ合衆国、インド、中国、ロシアのいずれかの国を表している。インドを表したものを、資料中のA～Dから一つ選び、その記号を書け。

資料Ⅲ

| | 二酸化炭素総排出量（億トン） | 一人あたりの二酸化炭素排出量（トン） |
|----|----------------|--------------------|
| A | 91.0 | 6.6 |
| B | 48.3 | 15.0 |
| C | 20.8 | 1.6 |
| D | 14.4 | 10.0 |
| 日本 | 11.5 | 9.0 |

（世界国勢図会2019/20年版による）

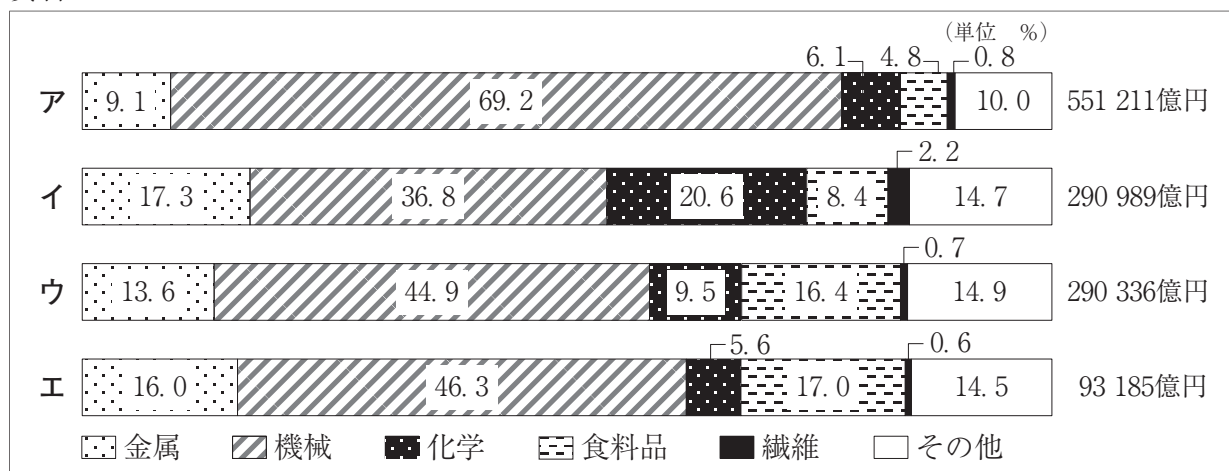
- 3 次の資料Ⅳは、日本と世界の国々の川の標高と河口からの距離を表したものである。常願寺川をはじめとする日本の川は、世界の国々の川と比べてどのような特徴があるか。この資料をもとに、川の長さと流れの速さに着目して、簡潔に書け。

資料Ⅳ

著作権保護のため掲載していません。

- 4 次の資料Ⅴは、2016年における、北関東工業地域、北九州工業地帯、瀬戸内工業地域、中京工業地帯の製造品出荷額等の割合と総額をそれぞれ表したものである。瀬戸内工業地域の製造品出荷額等の割合と総額を表したものを、資料中のア～エから一つ選び、その記号を書け。

資料Ⅴ



（日本国勢図会2019/20年版による）

- 5 次の資料Ⅵは、福井県小浜市^{おばま}の地形図の一部である。この地形図から読み取れることを述べた文として誤っているものを、下のア～エから一つ選び、その記号を書け。

資料Ⅵ



(国土地理院2万5千分の1の地形図「小浜」(平成30年発行)による)

- ア 市役所からみて、「後瀬山城跡」はおよそ南西にある。
イ 鉄道の線路の北側には寺院が多くみられる。
ウ ・印Aの標高と・印Bの標高の差は160mである。
エ ・印Cから・印Dまでの地形図上の長さは約2cmなので、実際の直線距離は約500mである。