

令和3年度B日程  
学力検査問題

⑤

社 会

注 意

- 1 開始の合図があるまで問題用紙を開いてはいけません。
- 2 解答用紙は問題用紙の中に挟んであります。
- 3 問題用紙は表紙を除いて7ページで、問題は①から③まであります。
- 4 開始の合図があったら、まず、問題用紙および解答用紙の所定の欄に  
**志願先高等学校名と受検番号**を書きなさい。
- 5 答えはすべて**解答用紙の指定された欄**に書きなさい。

志願先高等学校名

高等学校

受 検 番 号

1 次の略年表を見て、下の1～7の問いに答えなさい。

略年表

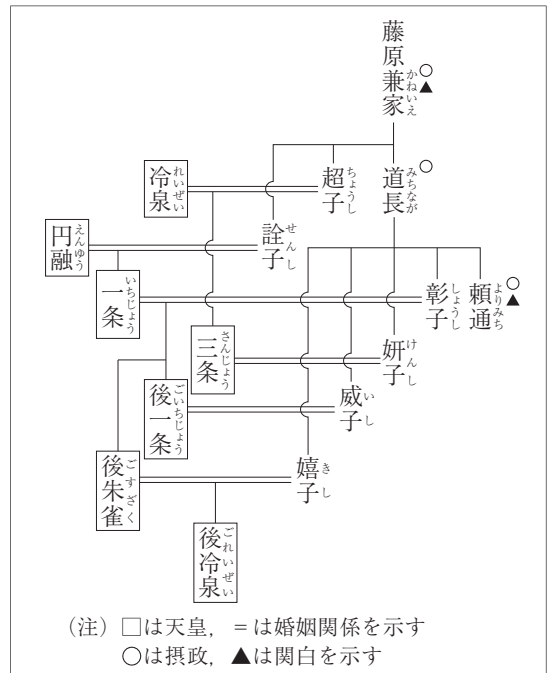
西 暦	できごと
710年	平城京に都が移る……………
1016年	① <u>藤原道長が摂政となる</u> ……………
1333年	② <u>鎌倉幕府が滅亡する</u> ……………
1404年	③ <u>勘合貿易が始まる</u> ……………
1680年	徳川綱吉が征夷大將軍に任命される……………
1868年	戊辰戦争が始まる……………
1914年	④ <u>第一次世界大戦が始まる</u> ……………
1951年	日米安全保障条約が結ばれる……………
1968年	国民総生産が資本主義国中第2位になる……………

1 年表中のAの時期に我が国で起こったできごととして誤っているものを、次のア～エから一つ選び、その記号を書け。

- ア 承久の乱が起こる
- イ 平清盛が太政大臣となる
- ウ 冠位十二階の制度が定められる
- エ 坂上田村麻呂が征夷大將軍となる

2 年表中の下線部①に「藤原道長が摂政となる」とあるが、藤原氏は、9世紀中頃から11世紀中頃にかけて、摂政や関白として政治の実権を握った。右の資料Iは、藤原氏と皇室の関係を示す系図の一部である。藤原氏は、どのようにして政治の実権を握ったか、資料をもとに、簡潔に書け。

資料I



3 年表中の下線部②に「鎌倉幕府が滅亡する」とあるが、鎌倉幕府の滅亡後、後醍醐天皇を中心とする新しい政治が始まった。この天皇中心の新しい政治は、それまでのしきたりを無視したものであったため、人々の不満を生んで短期間で崩れた。後醍醐天皇を中心とする新しい政治を何というか、書け。

4 年表中の下線部③に「勘合貿易が始まる」とあるが、雪舟は、勘合貿易が行われた室町時代の禅僧である。雪舟の作品を、次のア～エから一つ選び、その記号を書け。

ア

著作権保護のため掲載していません。

イ

著作権保護のため掲載していません。

ウ

著作権保護のため掲載していません。

エ

著作権保護のため掲載していません。

5 次のア～エは、年表中のBの時期に行われた政治について述べたものである。ア～エを、年代の古いものから順に並べ、その記号を書け。

ア 松平定信が、旗本や御家人の生活難を救うため、借金を帳消しにするとともに、武士に朱子学を学ばせ人材育成を図った。

イ 徳川吉宗が、新田開発を進めるとともに、質素・儉約を掲げた政治を行って、財政の立て直しに取り組んだ。

ウ 水野忠邦が、株仲間を解散させたり、江戸に流入していた者をもとの村に帰したりして、社会の安定化と幕府の強化をめざした。

エ 田沼意次が、株仲間を認めて税を徴収したほか、長崎の貿易など商業を盛んにして、幕府の収入を増やそうとした。

6 年表中の下線部④に「第一次世界大戦が始まる」とあるが、第一次世界大戦の戦後の取り決めについて話し合う講和会議で締結された条約を、次のア～エから一つ選び、その記号を書け。

ア ポーツマス条約

イ 南京条約

ウ サンフランシスコ平和条約

エ ベルサイユ条約

7 年表中のCの時期に我が国で起こったできごととして正しいものを、次のア～エから一つ選び、その記号を書け。

ア 与党の自由民主党（自民党）と野党の日本社会党（社会党）などが対立する政治体制が始まった。

イ 生糸を生産するため、官営の富岡製糸場が建設された。

ウ 教育の基本方針を示す教育基本法が制定された。

エ 中東で起こった戦争の影響によって石油危機が起こり、大きな打撃を受けた。

2 次の1～6の問いに答えなさい。

1 次の資料Ⅰは、平成25年度予算案の議決までの経過を示したものである。平成25年度予算案が国会で議決されるまでには、それについて協議する両院協議会が開かれた。平成25年度予算案について協議する両院協議会が開かれたときとして正しいものを、下のア～エから一つ選び、その記号を書け。

資料Ⅰ

1月28日	常会（通常国会）が開会される。……………	A
2月28日	国会に平成25年度予算案が提出される。……………	B
4月16日	衆議院で平成25年度予算案が可決される。……………	C
5月15日	参議院で平成25年度予算案が否決される。……………	D
5月15日	衆議院の議決が国会の議決となる。……………	E

ア AとBの間      イ BとCの間      ウ CとDの間      エ DとEの間

2 次の資料Ⅱは、内閣総理大臣とすべての国务大臣で構成され、行政の運営について政府の方針を決定するために開催される会議のようすである。この会議を何というか、書け。

資料Ⅱ

著作権保護のため掲載していません。

3 日本国憲法において、国民審査の対象として規定されているものを、次のア～エから一つ選び、その記号を書け。

ア 最高裁判所裁判官      イ 裁判員      ウ 検察官      エ 弁護士

4 次の資料Ⅲは、たくみさんが金融のしくみとはたらきについて学習したことをまとめたノートの一部である。資料中の  に当てはまることばを書け。

資料Ⅲ

【金融のしくみとはたらき】

- 金融……………資金に余裕がある人や企業と、資金が不足している人や企業とが、互いにお金を貸し借りすること。
- 金融機関の種類……銀行、証券会社、保険会社など。
- 資金を調達する方法
  - ・  金融…企業などの借り手が株式を発行するなどして、貸し手から必要な資金を調達すること。

- 5 次の資料Ⅳは、2016年から2019年の我が国の常会（通常国会）における内閣提出法案と議員提出法案の、それぞれの提出件数と成立件数を表したものである。この資料から読み取れることについて述べた文として正しいものを、下のア～エから一つ選び、その記号を書け。

資料Ⅳ

	内閣提出法案		議員提出法案	
	提出件数	成立件数	提出件数	成立件数
2016年	56	50	72	18
2017年	66	63	136	10
2018年	65	60	71	20
2019年	57	54	70	14

(内閣法制局の資料による)

- ア 2016年から2019年のいずれの年も、法案の提出件数に対する成立件数の割合は、内閣提出法案が議員提出法案よりも低いが、提出件数は、内閣提出法案が議員提出法案を上回っている。
- イ 2016年から2019年のいずれの年も、法案の提出件数に対する成立件数の割合は、内閣提出法案が議員提出法案よりも低く、提出件数は、内閣提出法案が議員提出法案を下回っている。
- ウ 2016年から2019年のいずれの年も、法案の提出件数に対する成立件数の割合は、内閣提出法案が議員提出法案よりも高く、提出件数は、内閣提出法案が議員提出法案を上回っている。
- エ 2016年から2019年のいずれの年も、法案の提出件数に対する成立件数の割合は、内閣提出法案が議員提出法案よりも高いが、提出件数は、内閣提出法案が議員提出法案を下回っている。
- 6 次の資料Ⅴは、我が国の所得税における課税所得金額と、課税所得金額に対する所得税の税率を表している。資料Ⅴのように段階的に税率の違いを設ける課税方法の名称を書いたうえで、「税の負担」の語を使って、その課税方法の利点を説明せよ。

資料Ⅴ

課税所得金額	所得税の税率
195万円以下	5%
195万円を超え 330万円以下	10%
330万円を超え 695万円以下	20%
695万円を超え 900万円以下	23%
900万円を超え 1,800万円以下	33%
1,800万円を超え 4,000万円以下	40%
4,000万円超	45%

(国税庁の資料による)

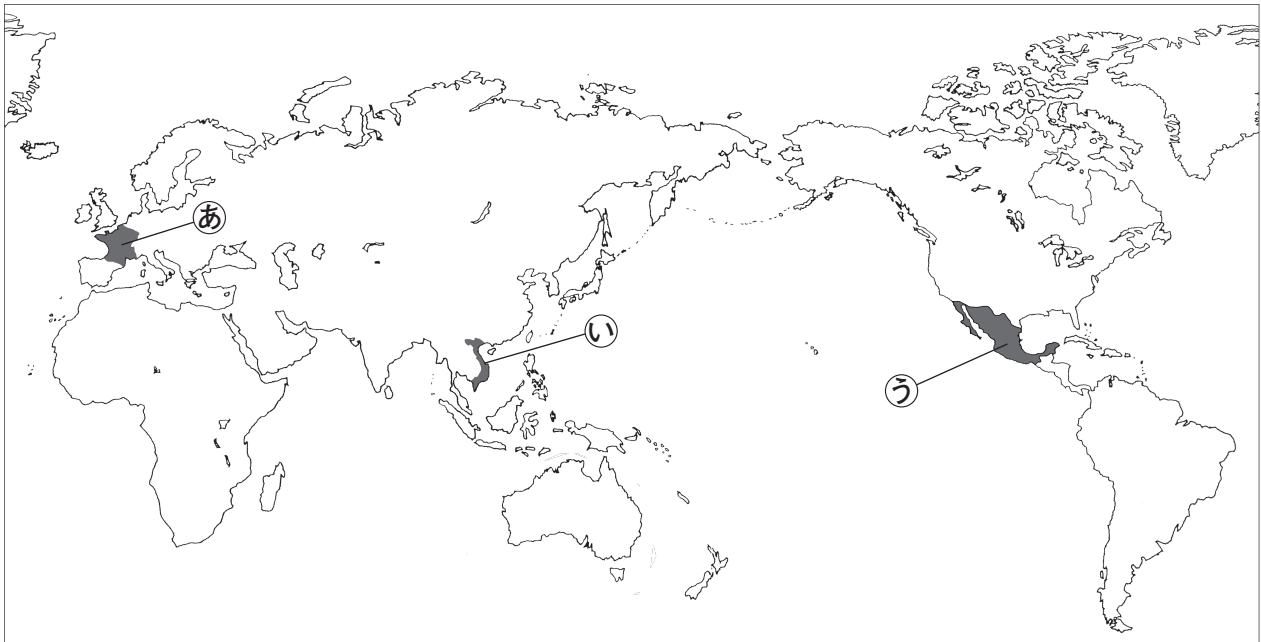
3 次の1～6の問いに答えなさい。

1 次の資料I中のa～cはそれぞれ、下の略地図中の●で示した㉠～㉡のいずれかの国の主食となる作物と結び付いた特色ある食べ物である。資料中のa～cと地図中の●で示した㉠～㉡の国の組み合わせとして正しいものを、下のア～エから一つ選び、その記号を書け。

資料I

a タコス	b バゲット	c フォー
著作権保護のため掲載していません。	著作権保護のため掲載していません。	著作権保護のため掲載していません。
とうもろこしの粉を練って焼いたトルティーヤに肉や野菜をはさんだもの。	小麦粉を練って生地をつくり、丸めて焼いたもの。	米の粉からつくっためんをスープに入れたもの。

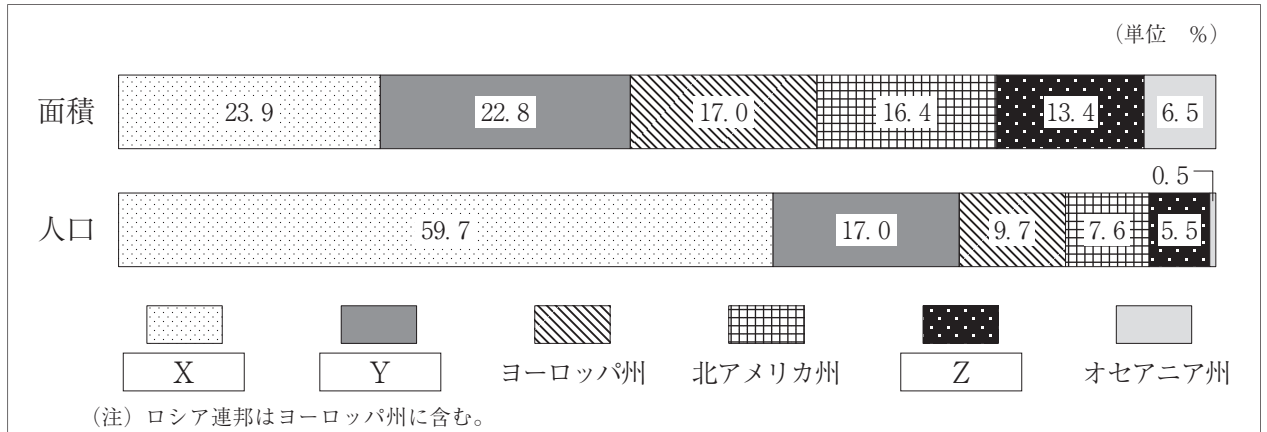
略地図



- |   |       |       |       |   |       |       |       |
|---|-------|-------|-------|---|-------|-------|-------|
| ア | a - ㉠ | b - ㉡ | c - ㉢ | イ | a - ㉡ | b - ㉠ | c - ㉢ |
| ウ | a - ㉡ | b - ㉠ | c - ㉢ | エ | a - ㉢ | b - ㉡ | c - ㉠ |

2 次の資料Ⅱは、世界をヨーロッパ州、アフリカ州、アジア州、オセアニア州、北アメリカ州、南アメリカ州の六つの州に区分し、面積、人口について、2019年における各州が占める割合をそれぞれ表したものである。資料中の **X** ~ **Z** に当てはまる州の組み合わせとして正しいものを、下の **ア** ~ **エ** から一つ選び、その記号を書け。

資料Ⅱ



(データブック オブ・ザ・ワールド2020年版による)

- |          |           |            |            |
|----------|-----------|------------|------------|
| <b>ア</b> | X - アフリカ州 | Y - アジア州   | Z - 南アメリカ州 |
| <b>イ</b> | X - アフリカ州 | Y - 南アメリカ州 | Z - アジア州   |
| <b>ウ</b> | X - アジア州  | Y - アフリカ州  | Z - 南アメリカ州 |
| <b>エ</b> | X - アジア州  | Y - 南アメリカ州 | Z - アフリカ州  |

3 次の資料Ⅲは、2017年におけるアメリカ合衆国と日本の農地面積、農地100ha当たりの農業就業人口を表したものであり、資料Ⅳは、アメリカ合衆国での小麦の収穫のようすを写した写真である。アメリカ合衆国の農業の特徴について、資料Ⅲからわかることと資料Ⅳにみられる農業経営の方法を使って、説明せよ。


資料Ⅲ

	農地面積 (千ha)	農地100ha当 たりの農業就 業人口(人)
アメリカ合衆国	160 437	1.4
日本	3 843	58.9

(注) 農地は耕地・樹園地の合計。  
農業就業人口には林業・水産業就業人口を含む。  
(世界国勢図会2019/20年版, 2020/21年版による)

資料Ⅳ

著作権保護のため掲載していません。

4 右の資料V中に示した  は、夏には太平洋側から、冬には日本海側から吹く風の向きをそれぞれ表している。この風は夏には太平洋側で、冬には日本海側で降水量が多くなる要因となっている。この風を何というか、書け。

資料V



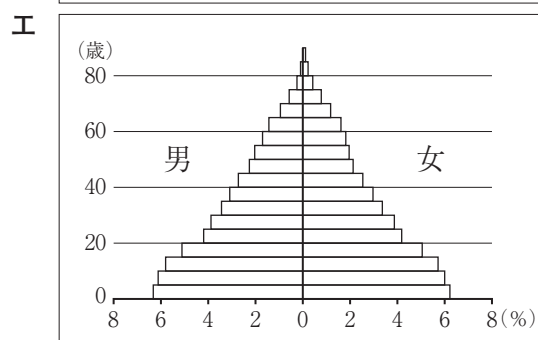
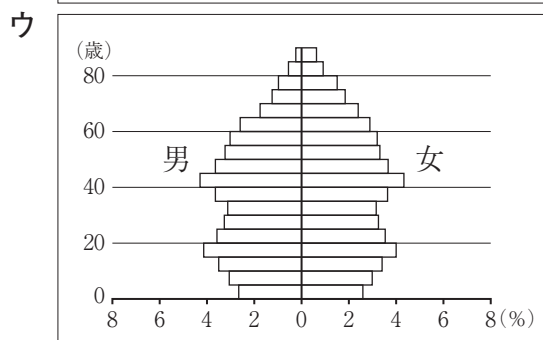
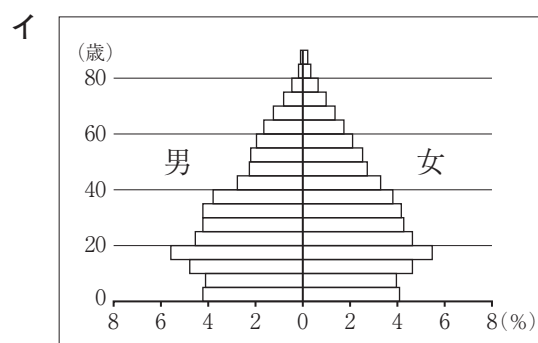
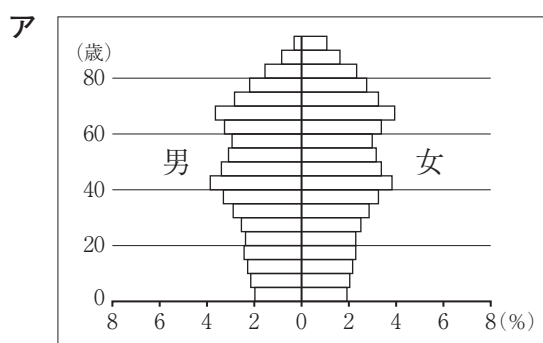
5 次の資料VIは、2018年における北海道、長野県、兵庫県、福岡県の小麦、レタス、ぶどうの収穫量及び豚の飼養頭数をそれぞれ表したものである。長野県の小麦、レタス、ぶどうの収穫量及び豚の飼養頭数を表しているものを、資料中のア～エから一つ選び、その記号を書け。

資料VI

	小麦 (t)	レタス (t)	ぶどう (t)	豚 (頭)
ア	2 900	28 900	2 290	20 400
イ	7 540	208 900	31 100	68 100
ウ	471 100	14 200	5 180	625 700
エ	54 900	19 200	7 300	82 600

(データでみる県勢2019年版, 2020年版による)

6 次のア～エのグラフは、それぞれ1940年、1965年、1990年、2015年のいずれかの年における我が国の人口ピラミッドを表したものである。ア～エを、年代の古いものから順に並べ、その記号を書け。



(総務省統計局の資料による)