

令和8年度B日程
学力検査問題

⑤

社 会

注 意

- 1 開始の合図があるまで問題用紙を開いてはいけません。
- 2 解答用紙は問題用紙の中に挟んであります。
- 3 問題用紙は表紙を除いて7ページで、問題は**1**から**3**まであります。
- 4 開始の合図があったら、まず、問題用紙および解答用紙の所定の欄に
受検番号を書きなさい。
- 5 答えはすべて**解答用紙の指定された欄**に書きなさい。

受 検 番 号

1 次の略年表を見て、下の1～7の問いに答えなさい。

略年表

西 暦	で き ご と
604年	① <u>十七条の憲法</u> が制定される
1274年	② <u>文永の役</u> が起こる
1467年	③ <u>応仁の乱</u> が始まる
1641年	オランダ商館が長崎の出島に移される……………
1688年	イギリスで <input type="text" value="X"/> が起こる
1716年	享保の改革が始まる……………
1868年	五箇条の御誓文が出される……………
1890年	第1回帝国議会が開かれる……………
1929年	④ <u>世界恐慌</u> が起こる

1 年表中の下線部①に「十七条の憲法」とあるが、この憲法を制定した人物として正しいものを、次のア～エから一つ選び、その記号を書きなさい。

- ア 中臣鎌足 イ 中大兄皇子 ウ 聖徳太子 エ 紀貫之

2 年表中の下線部②に「文永の役」とあるが、右の資料Iは、元寇の様子を描いたものである。元寇について述べた文として誤っているものを、次のア～エから一つ選び、その記号を書きなさい。

資料 I

著作権保護のため掲載していません。

- ア 幕府軍は、てつほうを有効活用し、元軍を撤退させた。
 イ 元軍は、集団戦法を用いることで、幕府軍を苦戦させた。
 ウ 幕府は、海岸に防塁（石築地）を築き、元の2回目の侵攻の際に上陸を防いだ。
 エ 元は、3回目の侵攻を計画したが、中止になった。

- 3 年表中の下線部③に「応仁の乱」とあるが、右の資料Ⅱは、応仁の乱後の京都の様子を描いたものであり、次の資料Ⅲは、あやのさんが資料Ⅱについてまとめたノートの一部である。ノート中の ・ に当てはまることばの組み合わせとして正しいものを、下のア～エから一つ選び、その記号を書きなさい。

資料Ⅱ

著作権保護のため掲載していません。

資料Ⅲ

【応仁の乱後の京都の様子】

が将軍のときに起こった応仁の乱によって荒廃した京都は、町衆とよばれる裕福な商工業者によって復興していきました。復興後、京都で復活した の様子が資料Ⅱに描かれています。

- ア a - 足利義満 b - ねぶた祭 イ a - 足利義満 b - 祇園祭
ウ a - 足利義政 b - ねぶた祭 エ a - 足利義政 b - 祇園祭

- 4 年表中のAの時期の我が国の政治について述べた文として正しいものを、次のア～エから一つ選び、その記号を書きなさい。

- ア 織田信長が、円滑な流通のため各地の関所を廃止した。
イ 徳川綱吉が、主従関係や上下関係、礼儀を重視する朱子学（儒学）を奨励した。
ウ 井伊直弼が、幕府に反対した大名や公家らを厳しく処罰した。
エ 白河天皇が、幼い皇子に天皇の位を譲って上皇となり、院政を始めた。

- 5 年表中の は、イギリスで起こった革命であり、この革命の後、立憲君主政と議会政治の基礎となる「権利の章典」が定められた。この革命を何というか、書きなさい。

- 6 年表中のBの時期に我が国で起こった次のア～エのできごとを、年代の古いものから順に並べ、その記号を書きなさい。

- ア 民撰議院設立建白書が政府に提出される
イ 大日本帝国憲法が発布される
ウ 西南戦争が起こる
エ 内閣制度ができる

- 7 年表中の下線部④に「世界恐慌」とあるが、アメリカでは、世界恐慌に対し、ローズベルト（ルーズベルト）大統領が不況からの回復を図る政策を行った。この政策を何というか、書きなさい。また、その政策の内容を、「公共事業」の語を使って、簡潔に書きなさい。

2 次の1～4の問いに答えなさい。

1 次の資料Iは、かおりさんの家庭で記録している家計簿の一部である。資料Iを見て、下の(1)・(2)の問いに答えなさい。

資料I

入金	給与などの②所得	541 000円
	その他	12 000円
①出金	食料費	74 000円
	光熱費, 水道代など	23 000円
	被服費	10 000円
	保健医療費	12 000円
	交通・通信費	48 200円
	教養・娯楽費	28 000円
	預貯金	63 000円
	⋮	⋮

(1) 資料I中の下線部①に「出金」とあるが、消費による支出にあたるものを、次のア～エから一つ選び、その記号を書きなさい。

- ア 銀行に預金する イ 大学の授業料を支払う
ウ 社会保険料を支払う エ 住民税を納める

(2) 資料I中の下線部②に「所得」とあるが、政府は所得格差が大きくならないよう、高所得者ほど所得に占める税金の割合を高くし、その分、低所得者の税負担を軽くする方法を所得税に取り入れている。この課税方法を何というか、書きなさい。

2 我が国の三権について、次の(1)・(2)の問いに答えなさい。


(1) 立法権、行政権、司法権それぞれに対し、国民は何を通じて影響を与えるか。その組み合わせとして正しいものを、次のア～カから一つ選び、その記号を書きなさい。

- ア 立法権 - 選挙 行政権 - 世論 司法権 - 国民審査
イ 立法権 - 選挙 行政権 - 国民審査 司法権 - 世論
ウ 立法権 - 世論 行政権 - 選挙 司法権 - 国民審査
エ 立法権 - 世論 行政権 - 国民審査 司法権 - 選挙
オ 立法権 - 国民審査 行政権 - 選挙 司法権 - 世論
カ 立法権 - 国民審査 行政権 - 世論 司法権 - 選挙

(2) 右の資料Ⅱは、ある裁判の第一審における法廷の様子を表したものである。この裁判の種類を、次のア～エから一つ選び、その記号を書きなさい。

- ア 弾劾裁判 イ 民事裁判
ウ 行政裁判 エ 刑事裁判

資料Ⅱ



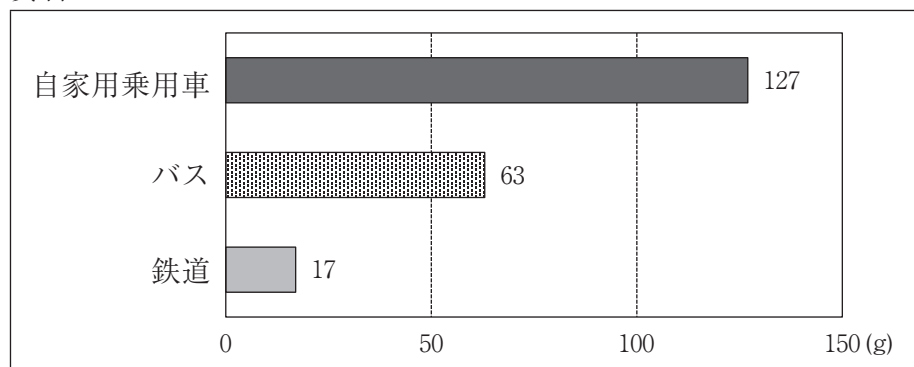
(政府広報オンラインの資料による)

3 日本国憲法で保障されている社会権に含まれる権利を、次のア～エから一つ選び、その記号を書きなさい。

- ア 選挙権 イ 生存権 ウ 自己決定権 エ プライバシーの権利

4 高知県では、無料駐車場を設け、自家用乗用車からバスや電車、鉄道などの公共交通機関に乗り換えてもらうパークアンドライドに取り組んでいる。次の資料Ⅲは、2023年度における自家用乗用車とバス、鉄道が一人を1km輸送する際の二酸化炭素の排出量をそれぞれ表したものである。パークアンドライドに取り組むことで、公共交通機関の利用促進や渋滞緩和が見込まれるほか、地球温暖化を防ぐことにつながると期待されている。パークアンドライドに取り組むことが、地球温暖化を防ぐことにつながると考えられる理由を、資料Ⅲから読み取れる各交通機関の特徴をもとに、「二酸化炭素」の語を使って、簡潔に書きなさい。

資料Ⅲ

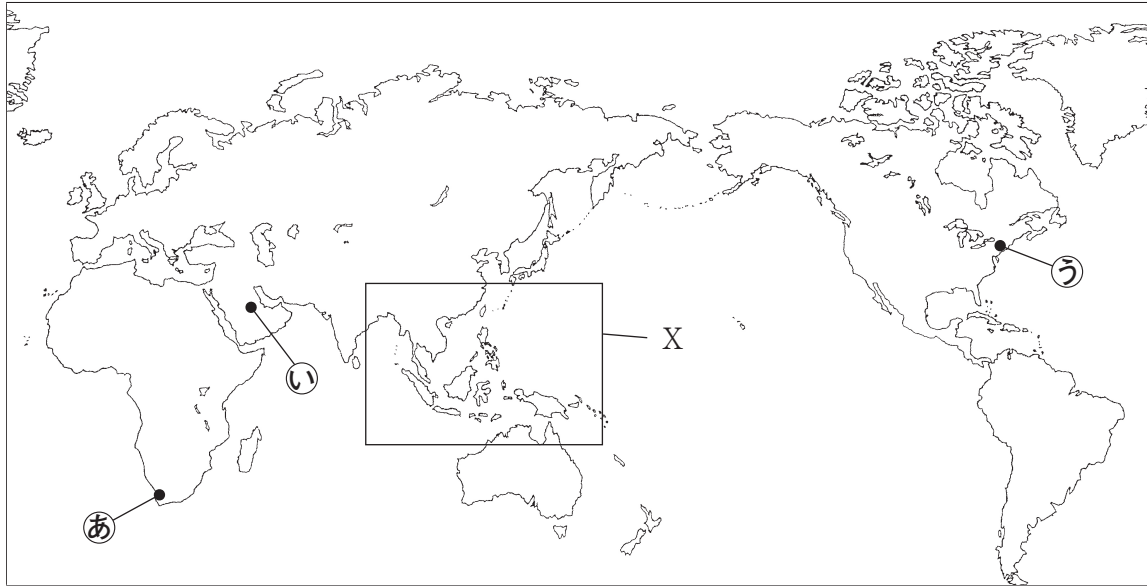


(国土交通省の資料による)

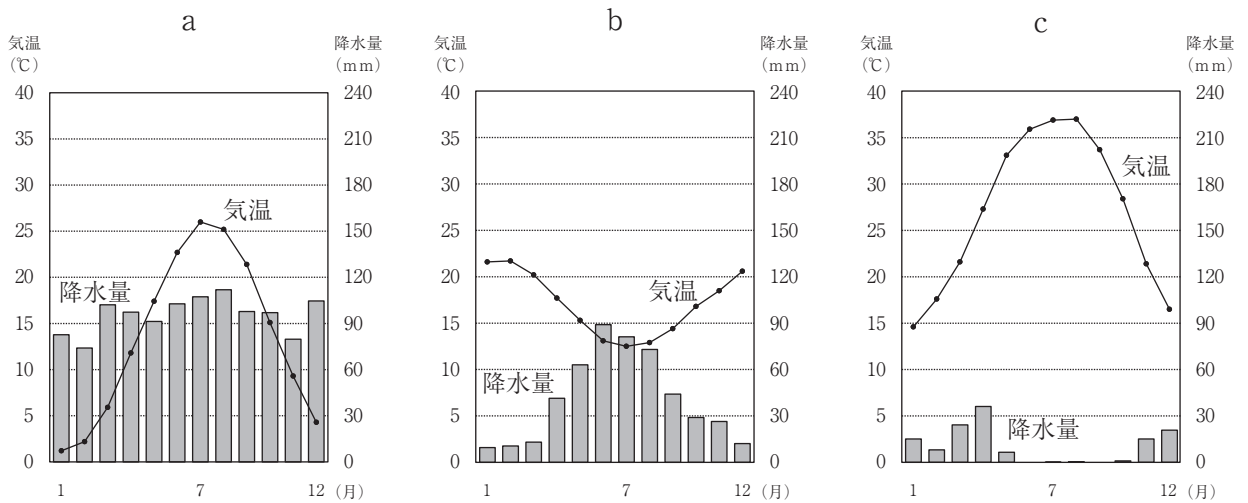
3 次の1～5の問いに答えなさい。

1 次の略地図Iを見て、下の(1)・(2)の問いに答えなさい。

略地図I



(1) 次のa～cのグラフはそれぞれ、略地図I中の●印①～③で示したいずれかの都市における、気温と降水量を表したものである。a～cのグラフと略地図I中の●印①～③で示した都市の組み合わせとして正しいものを、下のア～エから一つ選び、その記号を書きなさい。



(理科年表2025による)

- | | | | | | | | |
|---|-----|-----|-----|---|-----|-----|-----|
| ア | a-① | b-② | c-③ | イ | a-① | b-③ | c-② |
| ウ | a-② | b-① | c-③ | エ | a-③ | b-① | c-② |

(2) 右の資料Ⅰは、略地図Ⅰ中の□で示したXの部分拡大し、ある国際的な組織の2025年4月における加盟国を●で示したものである。これら10の加盟国で構成される組織では、輸入品にかかる税金を互いになくすなどして、貿易を活発化させて加盟国間の連携を深めている。この組織を何というか、書きなさい。

資料Ⅰ



(2025年4月時点の加盟国)

2 次の資料Ⅱは、2022年における鉄鉱石、石炭、羊毛、茶葉、コーヒー豆の生産量の上位5位までの国を表したものであり、資料Ⅱ中のA～Dはインド、オーストラリア、中国、ブラジルのいずれかである。このうち、インドにあたるものを、資料Ⅱ中のA～Dから一つ選び、その記号を書きなさい。

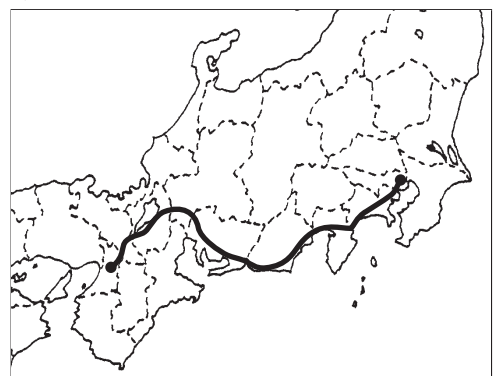
資料Ⅱ

鉄鉱石		石炭		羊毛		茶葉		コーヒー豆	
順位	国名	順位	国名	順位	国名	順位	国名	順位	国名
1	A	1	C	1	C	1	C	1	B
2	B	2	D	2	A	2	D	2	ベトナム
3	C	3	インドネシア	3	ニュージーランド	3	ケニア	3	インドネシア
4	D	4	アメリカ合衆国	4	トルコ	4	スリランカ	4	コロンビア
5	ロシア	5	A	5	イギリス	5	トルコ	5	エチオピア

(世界国勢図会2023/24, 2025/26年版による)

3 右の略地図Ⅱ中の——は、東京と大阪を結ぶ東海道新幹線の路線を示したものであり、次のア～ウの文は、路線上の8つの都府県のうち、3つの都府県の特徴について、それぞれ述べたものである。ア～ウが表す都府県を、東海道新幹線の路線の順に東から並べ、その記号を書きなさい。

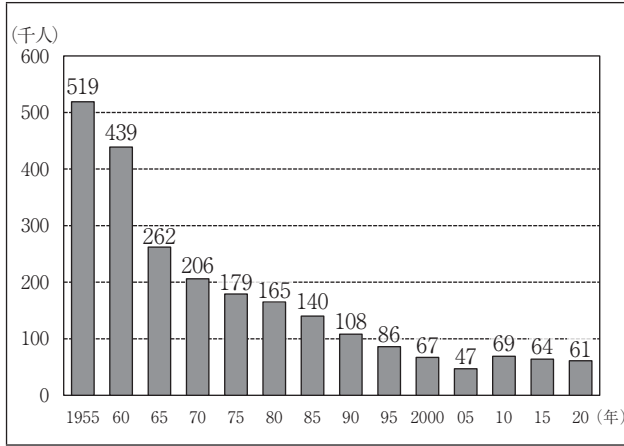
略地図Ⅱ



- ア 歴史的な町並みが多く残り、西陣織などの伝統工芸品が生産されている。
- イ 日本で最大の湖があり、飛鳥時代に都として大津宮がつけられた。
- ウ オートバイや楽器の生産が盛んで、富士山からの湧き水を利用した製紙工業も発達している。

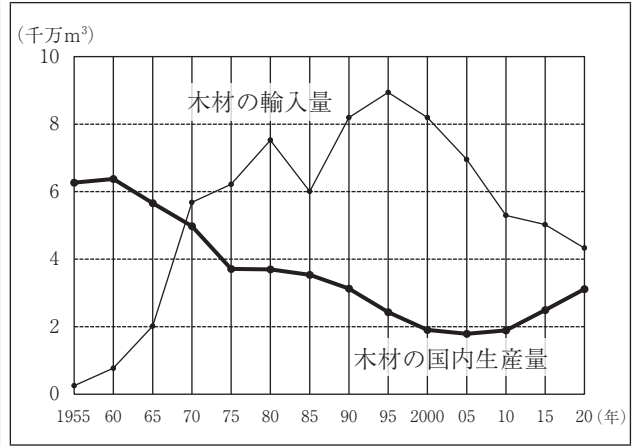
4 次の資料Ⅲは、1955年から2020年までの我が国の林業就業者数の推移を5年ごとに表したものであり、資料Ⅳは、1955年から2020年までの我が国の木材の国内生産量と輸入量の推移を5年ごとに表したものである。資料Ⅲと資料Ⅳから読み取れることを述べたX・Yの文について、その正誤の組み合わせとして正しいものを、下のア～エから一つ選び、その記号を書きなさい。

資料Ⅲ



(林野庁の資料、数字でみる日本の100年改訂第7版による)

資料Ⅳ



(林野庁の資料による)

X：1955年と2020年を比べると、1955年の林業就業者数は、2020年の林業就業者数の8倍を超えているが、木材の国内生産量と輸入量はどちらも1955年の方が少ない。


Y：1960年と1995年を比べると、1995年の木材の国内生産量と輸入量の合計は、1960年の木材の国内生産量と輸入量の合計よりも多い。

- | | | | | | |
|---|-------|-------|---|-------|-------|
| ア | X - 正 | Y - 正 | イ | X - 正 | Y - 誤 |
| ウ | X - 誤 | Y - 正 | エ | X - 誤 | Y - 誤 |

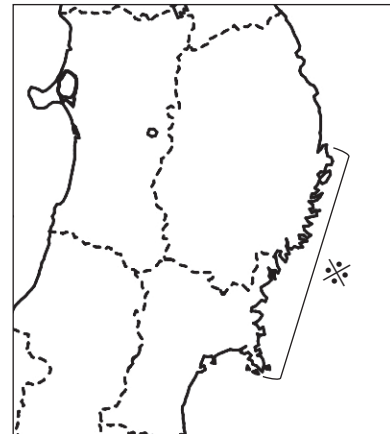
5 次の資料Ⅴは、みつるさんが三陸海岸についてまとめたノートの一部である。ノート中の a に当てはまる内容を、「海岸線」と「波」の二つの語を使って、簡潔に書きなさい。

資料Ⅴ

【三陸海岸】

- 三陸海岸の  で示した地域は、リアス海岸の特徴がみられる。
- 三陸海岸では、下の写真のように、かきやわかめの養殖が盛んである。
- リアス海岸で養殖が盛んな理由は、 a である。

著作権保護のため掲載していません。



(出典：三陸やまだ漁業協同組合のウェブページから一部抜粋)